

SVETOVANJE IN PRODAJA
TURISTIČNIH
PROIZVODOV
(M10)

INTERNO GRADIVO

LETALSKI PROMET

1. Svet je razdeljen v 24 časovnih pasov. Vsak časovni pas je širok 15 stopinj zemeljske dolžine. Časovna razlika med sosednjima pasovoma je natanko 1 ura. Greenwich meridian (poldnevnik) leži na zemljepisni dolžini 0 stopinj. Čas v tem pasu se imenuje Greenwich Mean Time (GMT). Čas v ostalih pasovih je izražen v odnosu do GMT-ja. Čas se izraža največ do GMT +12 in GMT -12. Ta teoretični sistem je v določenih primerih prilagojen mejam držav (da se obdrži lokalni čas), obstajajo pa izjeme.

Datumska meja je imaginarna črta, ki v smeri sever – jug teče skozi Tihi ocean. Levo in desno od nje sta datuma različna. Kadar je datumska meja prečkana v smeri proti vzhodu, lahko rečemo, da je dan pridobljen; kadar je prečkana v smeri proti zahodu pa rečemo, da je dan izgubljen.

Primer:

Koliko je ura v Frankfurtu, ko je ura 5.00 zjutraj v Quitu (Ekvador)?

Frankfurt GMT+1

Quito GMT -5

Razlika je 6 ur, zato je v Frankfurtu 11:00 dopoldan.

<http://www.timeanddate.com/worldclock/>

Reši naslednje naloge:

Potnik bo iz Brnika potoval ob 10.00 v Sydney (Avstralija). Rad bi si že pripravil uro po njihovem lokalnem času. Koliko je ura v Sydneyju?

Koliko je ura v Mexiku, ko je ura v Berlinu 14.00?

Koliko je ura v Los Angelesu, ko je v New Yorku poldan?

Če je v Ljubljani ura 13.00, koliko je v Tokiu:

Če je v Atenah ura 14.00 je v Parizu ura:

http://www.edreams.com/edreams/english/?mktportal=google-EN&gclid=Clea3av9_6OCFUeDDgodYXDfgg

2. Peter Novak roj. 1960 potuje 12.11.2012 iz Ljubljane v New Delhi (Indija). Tarife: ekonomski razred, potovanje izven sezone in med tednom. Potnik potuje v eno smer.

Poišči ustrezen let in gospodu Novaku pisno potrdi rezervacijo z vsemi potrebnimi podatki.

3. Tina Luznar roj. 1971 potuje 22.11.2012 zgodaj zjutraj iz Ljubljane v Lizbono. Vrača se v petek 26.11.2012. Želi, da ji rezerviraš povratni let in hotel v Lizboni. Za oboje napiši potrditev rezervacije.

Ker gospa Luznar potuje za več dni in bo imela kar nekaj prtljage, jo zanima ali so kakšne omejitve pri prevozu le-te. Da jo boš lahko informiral-a, poišči ustrezne informacije na spletni strani Adrie Airways.

<http://new.sta-lj.com/letalske-karte/etix>

ELECTRONIC TICKET
PASSENGER ITINERARY RECEIPT

STA LJUBLJANA TRG AJOVSCINA 1 1000 LJUBLJANA	1	DATE: 10 AUGUST 2009	2						
		AGENT: 2222							
		NAME: _____	3						
IATA : 773 20891									
TELEPHONE: +386 3 439 1690	4		5						
ISSUING AIRLINE		AEROFLOT							
TICKET NUMBER	7	ETKT: 555	6						
BOOKING REF : AMADEUS: _____		AIRLINE: SU/							
FROM /TO	FLIGHT	CL	DATE	DEP	FARE BASIS	NVB	NVA	BAG	ST
VIENNA SCHWACHA	SU 0264	L	09SEP	0030	LPX	09SEP	09SEP	20K	OK
MOSCOW SVO			10	ARRIVAL TIME: 0520					
TERMINAL: 2	8	9		12			13	14	
MOSCOW SVO	SU 0193	L	09SEP	1050	LPX	09SEP	09SEP	20K	OK
TERMINAL: 2				ARRIVAL TIME: 1450					
YEREVAN									
YEREVAN	SU 0194	Q	14SEP	1550	QPX	14SEP	14SEP	20K	OK
MOSCOW SVO				ARRIVAL TIME: 1755					
TERMINAL: 2									
MOSCOW SVO	SU 0263	Q	14SEP	2115	QPX	14SEP	14SEP	20K	OK
TERMINAL: 2									
VIENNA SCHWACHA			16	ARRIVAL TIME: 2215					15

AT CHECK-IN, PLEASE SHOW A PICTURE IDENTIFICATION AND THE DOCUMENT YOU GAVE FOR REFERENCE AT RESERVATION TIME

Napiši, kaj je napisano na elektronski karti:

- _____
- _____
- _____

4. _____
5. _____
6. _____
7. _____
8. _____
9. _____
10. _____
11. _____
12. _____
13. _____
14. _____
15. _____
16. _____

RAZDALJE MED KRAJI

1. Za posamezne turistične točke napišite koliko so oddaljeni iz Radovljice!

- a) Benetke
- b) Milano
- c) Beograd
- d) Helsinki
- e) Bari
- f) Pariz
- e) Dubrovnik
- g) Sofija

2. Napiši koliko časa potrebuje avtobus da pripelje turiste v posamezne kraje. Napišite kje se bodo turisti peljali, upoštevajte potovalno hitrost avtobusa in po zakonu predvidene postanke!

Radovljica-Firence
Ljubljana-Bukarešta
Ljubljana-Bruselj
Radovljica Dubrovnik

3. Izračunajte stroške za avtobus (1km stane 1,4€ in cestnine) na naslednjih relacijah:

Ljubljana- Milano

Nica- Ljubljana

Ljubljana - Frankfurt

Ljubljana - Praga

Beograd- Ljubljana

INTERBUS

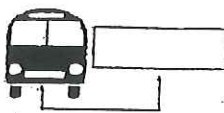
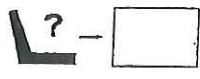
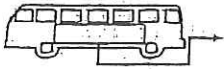
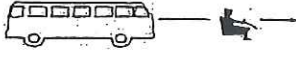


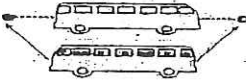
(Država izdaje listine)
- oznaka države

(POTNIŠKA SPREMNICA – PRVA STRAN)

(papir zelene barve: DIN A4 + 29,7 x 21 cm)

(v uradnem jeziku (jezikih) ali v enem od uradnih jezikov pogodbenice, v kateri ima prevoznik sedež)

Serijska št.
Spremnica št.

1		
	Registrska številka vozila	Število razpoložljivih potniških sedežev
2		<p>.....</p> <p>.....</p> <p>.....</p>
	Ime ali trgovsko ime prevoznika	
3		<p>1.....</p> <p>2.....</p> <p>3.....</p>
	Ime voznika ali voznikov	
Vrsta prevoza (s križcem označite ustreznih kvadratik in navedite dodatne podatke)		
A	 <p>Krožna vožnja "zaprtih vrat"</p>	B
		 <p>Prevoz potnikov, pri katerem je vozilo na potovanju tja polno, na potovanju nazaj pa prazno</p> <p>⊗ Mesto prihoda in oznaka države prihoda.....</p>
4	C	
	Prevoz potnikov, pri katerem je vozilo na potovanju tja prazno, vsi potniki vstopijo na istem mestu in se prepeljejo v državo, v kateri ima prevoznik sedež	
	⊗ Mesto, kjer potniki vstopijo, in oznaka države	
C1	<p>a) Potniki sestavljajo skupino po pogodbi o prevozu z dne..... (datum) s/z..... (turistična agencija, združenje itd.)</p> <p>b) Skupina potnikov je bila sestavljena na ozemlju:</p> <p>a) nepogodbenice..... (ime države)</p> <p>b) pogodbenice, ki ni ista, v kateri ima prevoznik sedež..... (ime države)</p> <p>c) Mesto in pogodbenica, kjer potniki vstopijo..... (ime države)</p> <p>d) Prevoz v pogodbenico, v kateri ima prevoznik sedež..... (ime države)</p> <p>o Kopija pogodbe o prevozu ali enakovreden dokument (glej četrto točko Opomb)</p>	
C2	<p>Potnike je isti prevoznik s prevozom iz točke B predhodno prepeljal v pogodbenico, v kateri se potniki spet prevzamejo in prepeljejo nazaj na ozemlje pogodbenice, v kateri ima prevoznik sedež.</p> <p>o V prilogi je potniška spretnica za predhodni prevoz, pri katerem je bilo vozilo na poti tja polno, na poti nazaj pa prazno.</p>	
C3	<p>Potniki so bili povabljeni na pot v..... (mesto in država)</p> <p>Potne stroške krije oseba, ki je potnike povabila; taki potniki morajo sestavljati enovito skupino, ki ni nastala samo zaradi tega potovanja. V prilogi je vabilo (ali fotokopija vabila).</p> <p>Skupina se prepelje na ozemlje pogodbenice, v kateri ima prevoznik sedež.</p>	

(Potniška spremnica – zadnja stran)

Program potovanja	Dnevne etape					
	Datumi	Od mesto/država	Do mesto/država	Km polno vozilo	Km prazno vozilo	Mejni prehodi
5						
6	Seznam potnikov					
	1		22		43	
	2		23		44	
	3		24		45	
	4		25		46	
	5		26		47	
	6		27		48	
	7		28		49	
	8		29		50	
	9		30		51	
	10		31		52	
	11		32		53	
	12		33		54	
	13		34		55	
	14		35		56	
	15		36		57	
	16		37		58	
	17		38		59	
	18		39		60	
	19		40		61	
	20		41		62	
21		42		63		
7	Datum izpolnitve spremnice			Podpis prevoznika		
8	Nepredvidljive spremembe					
9	Kontrolni pečati					

(Podatki iz šeste točke se lahko pripravijo na posebnem listu, ki se pripne k tej listini.)

ŽELEZNIŠKI PROMET

1. V železniškem prometu imamo različne vrste vlakov. Razloži spodnja poimenovanja posameznih vrst vlakov in kaj nam poleg osnovne funkcije prevoza še ponujajo, ter dopiši ali vozijo tudi v Sloveniji.

IC: _____

EC: _____

EN : _____

PENDOLINO: _____

TGV: _____

EUROSTAR: _____

LE SHUTTLE: _____

TRENHOTEL: _____

2. Potovanje z vlakom ima svoje čare. In slabosti: zamude, težko prtljago, čudaške sopotnike v kupejih ... A na Japonskem je (vse) drugače. Vlaki po katerih lahko nastavite uro. Japonska je znana po enem najbolj modernih in razvitih transportnih sistemov na svetu. Že dolgo časa kraljuje v hitrostnih rekordih **maglev vlakov**, to so vlaki ki _____

_____ . Tovrstni vlaki dosegajo hitrost do _____ km/h.

Japonski hitri vlaki se imenujejo _____ in ločimo več kategorij kot npr.:

NOZOMI: _____

HIKARI: _____

KODOMA: _____

Japonski železniški sistem omogoča dostop do praktično vsake vasi. Za turiste, ki obiščejo Japonsko in jo želijo prepotovati čim bolj udobno ter finančno sprejemljivo je najpametnejša izbira Japan Rail Pass. Razloži, kje se dobi in dopiši osnovne informacije ter veljavnost.

3. Z najbolj slavno železnico na svetu, ki nas popelje skozi osem časovnih pasov, je potovanje za navdušence nad vlaki prava poslastica. O kateri železnici je govora; kakšne je njena dolžina in kaj povezuje?

4. V tvojo agencijo je prišel gospod Novak, ki bo z družino v novembru potoval v London. Mesto bodo raziskovali s pomočjo uporabe TUBa. Svetuj mu, kje naj kupi vozovnice in med kakšnimi vrstami vozovnic lahko izbira! Poišči mu še hotel v Londonu (soba 1/2 + 1) za čimbolj zmerno ceno.

5. Na Dunaju je zelo dobro organiziran javni mestni promet. Med jesenskimi počitnicami se bo nekaj gostov, kateri so obiskali vašo agencijo, za štiri dni odpravili na potep po Dunaju. Kakšne vozovnice za prevoz po Dunaju se najbolj spláča kupiti, koliko bo to stalo?

Gospod in gospa Pretnar pa od tvoje agencije želita celotno uslugo in sicer rezervacijo povratne karte za vlak do Dunaja (seznaní ju z voznim redom in cenikom) ter rezervacijo hotela srednjega cenovnega razreda na Dunaju.

6. V tvojo agencijo je prišla študentka, ki želi skupaj z dvema prijateljicama potovati z THALYS vlakom iz Kölna v Pariz. Pomagaj ji z nasveti, kje vlak vozi, kje je mogoče kupiti vozovnico, koliko stane vozovnica na omenjeni relaciji in koliko časa je veljavna?

7. V agencijo pride gospa Špendal, ki bo s tvojo agencijo odpotovala na nekajdnevni izlet v Berlin. V prostem času bi se rada samá izven programa potepala po mestu. Zanima jo, kako je z javnim prevozom.

Poleg rednega javnega prevoza je v Berlinu na voljo še posebna turistična ponudba – vozne karte za turiste za določen čas in obseg voženj. Razloži.

8. Gimnazija bo 25 dijakov peljala na nagradni izlet. Ena od učiteljic se je oglasila v vaši agenciji in si izbrala Beograd kot destinacijo. Omenila je, da bi najraje potovali z vlakom zaradi dolžine poti in števila udeleženi. Razloži ji, kaj ponujajo Slovenske železnice.

LADIJSKI PROMET IN KRIŽARJENJE

1. Razloži, kaj je CLIA.

2. Dopolni.

CRUISE&FERRY CENTER je prva in vodilna _____ za prodajo križarjenj, ladijskih, železniških in letalskih prevozov v Sloveniji. Sedež ima v _____. Na internetu so prisotni že od _____. V njihovi ponudbi najdete preko _____ križarjenj, v bazi imajo več kot _____ hotelov v kar 130 državah sveta.

3. S prijateljem/ico sta se odločila/i, da julijske počitnice preživita na znanem hrvaškem otoku Hvaru. Potovala/i bosta z vlakom do Reke in s trajektom, ki pelje z Reke v Stari grad na Hvaru.

Koliko stane navadna povratna železniška karta Ljubljana – Reka? _____

Koliko stane vozovnica za trajekt v eno smer na palubi v tem terminu? _____ HRK

oz. _____ €. Če kupimo povratno vozovnico to znese _____ HRK oz. _____ €.

V ceno ni vključena luška taksa. Ta se plača dodatno in znaša _____ HRK oz. _____ €.

S katero trajektno linijo bosta potovala/i? _____

Ker je v poletni sezoni potrebna rezervacija tudi za palubne potnike, bosta rezervacijo opravila/i pri pooblašteni agenciji omenjene trajektno linije pri pooblaščenih agencijah v Sloveniji. Katerih? _____

4. V tvojo agencijo je prišla tričlanska družina Jemec (oče Marko 30.5.1962, mati Špela 15.2.1965 in hči Ema 3.3.2005), ki želi letošnje jesenske počitnice preživeti na Hrvaškem in v Italiji. Ker si želijo veliko ogledati v lastni režiji, bodo na pot odšli s svojim avtom (Renault Megane). Na pot bodo krenili že 26. 10. 2012. Najprej si bodo nekaj dni ogledovali zanimivosti Dalmacije, nato pa bi radi v začetku naslednjega tedna s trajektom odpotovati iz Dubrovnika v Italijo in se vrnili v Split konec tedna.

Seznani jih z možnimi trajektnimi povezavami (časovni termini)

Seznani jih s cenami (ladijska kabina - možnosti, prevoz avtomobila)

Seznani jih s pravili vkrcanja

5. Izpolni enosmerno vozovnico za družino iz naloge 4.

PRIJEVOZNA KARTA PASSENGER AND VEHICLE TICKET			JADROLINIJA Rijeka, Riva 16, Hrvatska				N° 254324
Od From	Do To	Dan Date	Vrijeme Time	Prijava za ukrcaj Check in time	Linija Line	Brod Ship	Mjesto za auto Car space
Broj odraslih Number of adults		Djeca Children		Smještaj Accommodation		Cijena za putnike Passenger fare	
Naslov Title	Ime Name		Podaci o vozilu Vehicle data		Cijena za vozilo Vehicle fare		
Posebne primjedbe Special remarks		Agencija Agency		Datum		Ukupno iznos Total amount	

6. V tvojo agencijo je prišla štiričlanska družina Šmit, katero zanima nekajdnevno križarjenje po Sredozemlju. Sestavi ponudbo, katera mora poleg smeri križarjenja vsebovati še ceno, časovno opredelitev križarjenja, opis ladje. Sestavi tudi obrazec za prijavo na križarjenje. Sestavi potrdilo o rezervaciji

Osebnih podatki:

Šmit Matej	SI	28.3.1960 (Jesenice)	št.OI 009645643 (Kranj)	veljavnost 12.07.2013	tel. 041885469
Šmit Maja	SI	15.2.1961 (Maribor)	št.OI 006845814 (Kranj)	veljavnost 5.11.2012	tel. 041558698
Šmit Blanka	SI	14.1.1985 (Kranj)	št.OI 004547821 (Kranj)	veljavnost 20.10.2012	tel. 031587460
Šmit Nejc	SI	25.10.1986 (Kranj)	št.OI 003978532 (Kranj)	veljavnost 30.10.2013	tel. 031221440

Naslov: Županova 3, Kranj

7. Naštejte tri ladjarje, ki pretežno pljujejo po Sredozemlju, tri, ki pljujejo po Karibskem morju, dva, ki dominirata v severni Evropi in dva, ki ploveta na Aljasko!

8. Naštej nekaj križarjenj, ki bi jih priporočal v:

- Zimskem času
- Čez celo leto
- Od pomladi do jeseni

Poišči odgovore na naslednja vprašanja, ki jih zastavljajo potencialni udeleženci križarjenj.

9. Kakšne so kabine na ladji in kaj ponujajo?

10. Kaj je ladijska kartica?

11. Ali imajo otroci na križarjenjih kakšne popuste?

12. Kaj je repositioning cruise?

13. Ali so na ladjah obvezne napitnine?

14. Gospoda Mraka zanima, ali je na ladji dovoljeno kaditi?

15. Ali veljajo kakšna specifična pravila za oblačenje na ladji (predvsem udeležba na formalni večerji,...)?



TURISTIČNA AGENCIJA:

REFERENT:

OBRAZEC ZA PRIJAVO KRIŽARJENJA

DATUM ODHODA/...../.....

LADJA

PRISTANIŠČE ODHODA

TIP KABINE

KATEGORIJA KABINE

POSEBNI POPUSTI

Poročno potovanje

Družina

Upokojenci

Ostalo

OSEBNI PODATKI	1. POTNIK	2. POTNIK	3. POTNIK	4. POTNIK
PRIIMEK				
IME				
SPOL				
DATUM ROJSTVA				
KRAJ ROJSTVA				
DRŽAVLJANSTVO				
ŠTEVILKA DOKUMENTA				
KRAJ IZDAJE				
VELJAVNOST DOKUMENTA				
NASLOV				
POŠTNA ŠTEVILKA				
MESTO				
TELEFON / GSM				

REZERVACIJA PARKIRIŠČA V PRISTANIŠČU ODHODA

POSEBNE POTREBE (invalidnost, nosečnost ipd.)

POSEBNA PREHRANA

S podpisom potrjujem, da sem seznanjen/a s Splošnimi pogoji in Prilogo temu obrazcu.

Kraj in datum

IZRAČUN POČITNIŠKEGA ARANŽMAJA 2

1. Tričlanska družina bo z letalom dne 9.7. odpotovala na otok Korčulo. En teden bodo preživeli v hotelu Liburna v sobi s pogledom na morje. Odločili so se za polni penzion. Otrok je star 13 let in bo spal na dodatnem ležišču. Odpovedni riziko.
Koliko so plačali za počitnice pri TA Relax?
2. Mladoporočenca bosta »medeni« teden preživela na otoku Rodos v hotelu Rodos Palladium. Datum odhoda je 10.6. Želita sobo s pogledom na morje. Na dopust sta se prijavila sredi aprila. Potujeta preko TA Kompas.
3. Tri prijateljice bodo desetdnevni dopust preživele v Umagu v apartmajih Sol Stella. Datum odhoda je 12.8. Na dopust bodo odšle z avtobusom. Vzele bodo polpenzion. Potujejo s TA Relax. Izračunaj znesek dopusta in dopiši, koliko so plačale ob prijavi.
4. Štiričlanska družina bo počitnice preživela na otoku Zakintos v hotelu Contessa. Izbrani datum odhoda je 15.8. Na otoku bodo ostali dva tedna. Odločili so se za pol penzion. Ker sta v družini dva otroka bodo plačali odpovedni riziko. Otroka sta stara 11 in 1 leto. Potujejo s TA Kompas.
5. Tričlanska družina bo dvotedenske počitnice preživela v hotelu Olympia v Vodicaх na Hrvaškem. Datum odhoda je 20.8. Otrok star deset let in pol bo spal na dodatnem ležišču. Želijo sobo, ki ima pogled na morje. Vplačajo tudi riziko odpovedi. Potujejo s TA Sajko.
6. Oče bo osemletnega sina odpeljal na 4- dnevne počitnice smučanja v Kranjsko Goro. Datum odhoda bo 26. 2. Bivala bosta v hotelu Lek. Očeta zanima tudi, če se nudijo kakšni popusti na smučarske karte.
Potujeta s TA Kompas. Na počitnice sta se prijavila že sredi novembra.

TA _____

SEDEŽ DRUŽBE:

TRANSAKCIJSKI RAČUN:

POTRDILO O VPLAČILU ŠTEVILKA:

ŠTEV. VOUCHERJA:

DATUM ODHODA:

DATUM VPLAČILA:

NOSILEC:

NAČIN PLAČILA:

ZNESEK:

PREJEL: _____

VPLAČAL: _____

VOUCHER

Turistična agencija _____

Šolska cesta 24
4240 Radovljica
Tel. 04/5344010
xxxxxxx@siol.net
www.xxxxxx.com

Št. voucherja:

Za/to	Prihod/arrival
Storitve/services	Odhod/departure
	Prva stor./first servi
	Zadnja stor./last.service
Gost/client	Taksa/tax
	Št. oseb/no.of persons
	Opombe/remarks
Reg. št.vpisa: 2007/07584 Reg: vpis pri: Okrožno sodišče v Kranju Osnovni kapital: Davčna štev. 5847891, mat. št. 47520245	Žig in podpis/signature: Datum/date:

PREVERJANJE – PREVOZNA SREDSTVA V TURIZMU

1. a) Tvoja agencija pelje avtobus turistov na izlet v Novo Gorico. Odhod iz Radovljice je ob 8.00. Odhod iz Nove Gorice nazaj v Radovljico pa je ob 21.45.

Izračunaj ceno cestnine

Kilometer vožnje stane 1,4€. Poleg vožnje po avtocesti bo avtobus prevozil še 15 dodatnih kilometrov. Izračunaj še kilometrino.

b) Izračunaj ceno cestnine v eno smer za avtobus, ki pelje na relaciji Radovljica – Novo Mesto – Vinica – Bosiljevo – Reka.

2. Za vodenje v Novo Gorico (naloga 1.a) izpolni potni nalog.
3. Razloži naslednje izraze:
- e) Slovenika
 - f) itinerar
 - g) Eurostar
 - h) Railplus
4. Gospod Novak bi s soprogo in sinom (roj.11.10.2008) v začetku decembra potoval z osebnim avtom (Ford Focus) do Livorna in potem 4.12.2011 s trajektom do Bastije (Korzika). Za trajekt bi vzel povratno vozovnico z vrnitvijo v Livorno 11.12. 2012. Razloži mu vozni red in cenik.
5. V tvojo agencijo je prišel zakonski par Soklič, ki bi želel v začetku decembra z vlakom potovati v Prago. Razloži jima cenik za povratno vozovnico. Gospo Soklič tudi zanima možnost dveh nočitev v dvoposteljni sobi v Pragi, ter seveda, kakšne so cene.

6. Izračunaj lokalni čas, če je:

- V Ljubljani ura 11.30 je v Glasgowu
- V Helsinkih 07.00 je v Hong Kongu.....
- V Quebecu 4.00 je v Berlinu.....
- V Sydneyu 14.30 je v Atenah.....

7. Gospod Ahačič Miha, Ljubljanska c. 144, Bled 4260 je rezerviral popoldanski let za Istanbul za 28.11.2012 pri Adriji Airways. Napiši potrditev rezervacije z vsemi potrebnimi podatki. (internetna stran: letalske.si)

8. Štiričlanska družina se je odločila, da bodo letošnji desetdnevni dopust preživeli v Makarski v hotelu Dalmacija v terminu od 1.7. 2012 dalje. Želijo polni penzion. Podatki otrok: Lea roj. 4.10. 2001 in Mija roj. 12.12. 2010. Plačajo tudi odpovedni riziko. Izračunaj ceno aranžmaja in koliko plačajo ob prijavi. Potujejo s TA Relax.

9. Tričlanska družina gre letos štirinajst dni dopustovat v Egipt. Izbrali so hotel Iberotel il Mercato. Dopust bodo začeli 20. avgusta. Sin je star 10 let. Želijo allinclusive. Oče je navdušen golfist in bo zato s seboj vzel golf opremo. Seznan ga tudi, koliko stane 18 lukenj na igrišču. Na dopust so se prijavi že na začetku marca. Potujejo s TA Kompas. Izračunaj ceno aranžmaja.

Nalog za službeno potovanje

št.

datum

Odrejam, da odpotuje

na delovnem mestu

stanujoč

dne

ob

uri

po nalogu (odločba – spis)

v / na

z nalogo

Potovanje bo trajalo do

, to je

dni.

Odobravam uporabo (avtomobila, letala itd.)

Potne stroške plača

Višina dnevnice

Posebni dodatki

Odobravam izplačilo predujma v znesku EUR

M. P.

Podpis odredbodajalca

Predujem EUR

prejel dne

Podpis prejemnika

1301-LIII-561876-08

Ponatis prepovedan!

ALEA® DZS d.đ.,
ZALOŽNIŠTVO TISKOVIN

Obr.-7,1

1. Petčlanska družina je desetdnevni poletni dopust preživela v Savudriji v Apartmajih Savudrija. Z dopustom so pričeli 8.7. Podatki otrok: Miha roj. 3.3.2007, Neža roj. 17. 9. 2001 in Manca roj. 10. 5. 1997. S seboj bodo vzeli psa. Koristili bodo tudi polpenzion. Koliko so plačali za dopust? Potujejo s TA Relax.
Sedmi dan je Miha močno zbolel in družina mora domov. Razloži, kaj je najboljše storiti v takšnem primeru.

2. Dve sodelavki sta 3. 10. 2011 službeno odpotovale v Albanijo v Drač. Nastanile so se v hotelu As. Odjavile so se 7.10. Potujejo preko TA Relax. Koliko je podjetje plačalo za njihovo bivanje?

3. Štiričlanska družina je v začetku aprila rezervirala štirinajstdnevne počitnice na Rodosu v hotelu Rodos Palladium v terminu od 22.7. do 5.8. 2011. Otroka sta bila stara 8 in 15 let. Zaradi zgodnje prijave vzamejo odpovedni riziko. Starejši otrok s seboj vzame surf. Avto bodo pustili na letališču Brnik in jih zanima, če imajo kakšen popust. Izračunaj cena celotnega paketa. Potujejo s TA Kompas.

4. Gospa Ana Repe (Izletniška ulica 45, Lesce) je z vnukinjo Manjo Valant 21. julija 2012 za en teden z letalom odpotovala v Dubrovnik s TA Relax. Nastanili sta se v hotel Sumratin. Gospa je želela sobo z balkonom. Vnukinja je rojena 30. julija 2000. Gospa je 2. junija ob prijavi dopust plačala v celoti. Izdaj potrdilo o vplačilu.

5. Štiričlanska družina bo enotedenski dopust preživela v Puli v hotelu Park. S seboj bodo vzeli še babico. Otroka sta stara 6 in 11 let. Z dopustom bodo pričeli 4.8. Potujejo s TA Relax. Koliko stane tur. aranžma; koliko plačajo ob prijavi?